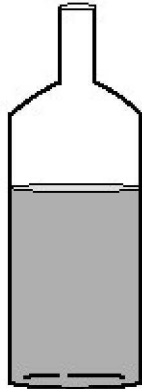
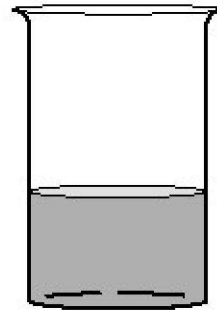


J4. Žiak naleje 100 ml vody do každej z otvorených nádob a nechá ich stáť jeden deň na slnku. Z ktorej nádoby sa pravdepodobne vyparí najviac vody?

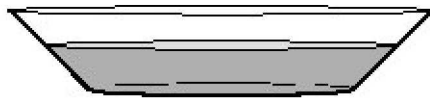
A.




B.



C.



D.



R2. Keď začína predstavenie, na herečku oblečenú v červených šatách svieti biele javiskové svetlo. Náhle svetlá zhasnú a na herečku je rozsvietené zelené svetlo. Jej šaty vyzerajú čierne. Prečo jej šaty vyzerajú čierne?

- A Šaty odrážajú zelenú zložku svetla.
- B Šaty pohlcujú červenú zložku svetla.
- C Šaty pohlcujú zelenú zložku svetla.
- D Šaty odrážajú čiernu zložku svetla.